


けいさんにチャレンジ 12きゅう (9)

ねん	くみ	ばん	なまえ	
----	----	----	-----	--



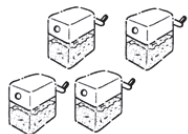
(4てん×2.5)

1 かずを かぞえましょう。

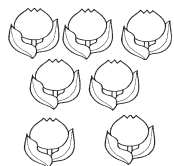
(1)




(2)



(3)

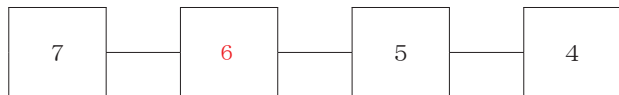


(4)

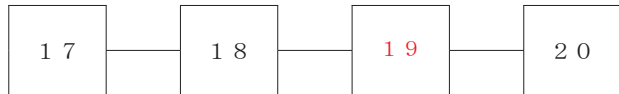


2 に かずを かきましょう。

(1)



(2)



(3) 2と 6で です。



(4) 10は と 2です。



ねん	くみ	ばん	なまえ	
----	----	----	-----	--

3 たしざんを しましょう。

(1) $1 + 5 =$

(2) $3 + 4 =$

(3) $6 + 4 =$

(4) $7 + 0 =$

(5) $15 + 3 =$

(6) $12 + 7 =$

4 ひきざんを しましょう。

(1) $5 - 3 =$

(2) $8 - 4 =$

(3) $7 - 1 =$


(4) $10 - 7 =$

(5) $19 - 8 =$

(6) $17 - 3 =$

5 いろを ぬりましょう。

(1) みぎから 3こ



みぎ

(2) みぎから 3こめ



みぎ

6 おおきい ほうに ○を つけましょう。

(1)
() (○)

(2)
() (○)

(3)
(○) ()