


けいさんにチャレンジ 12きゅう (10)

ねん	くみ	ぼん	なまえ	
----	----	----	-----	--



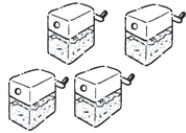
(4てん×2.5)

1 かずを かぞえましょう。

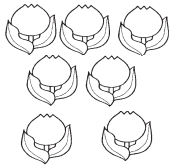
(1)




(2)



(3)

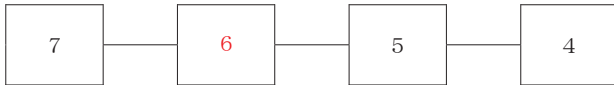


(4)

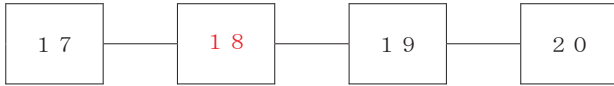


2 に かずを かきましょう。

(1)



(2)



(3) 3と 6で です。

(4) 10は と 4です。

ねん	くみ	ぼん	なまえ	
----	----	----	-----	--

3 たしざんを しましょう。

(1) $1 + 5 =$

(2) $3 + 4 =$

(3) $8 + 2 =$

(4) $7 + 0 =$

(5) $15 + 2 =$

(6) $13 + 5 =$

4 ひきざんを しましょう。

(1) $5 - 3 =$

(2) $8 - 4 =$

(3) $7 - 1 =$

(4) $10 - 7 =$

(5) $19 - 8 =$

(6) $17 - 3 =$

5 いろを むりましょう。

(1) みぎから 4こ



みぎ

(2) みぎから 4こめ



みぎ

6 おおきい ほうに ○を つけましょう。

(1) $3 > 6$
() (○)

(2) $8 > 10$
() (○)

(3) $13 > 15$
() (○)