


# けいさんにチャレンジ 12きゅう (10)

ねん	くみ	ばん	なまえ	
----	----	----	-----	--




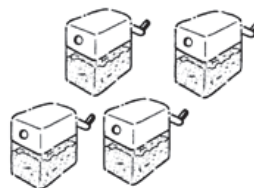
(4てん×25)

1 かずを かぞえましょう。

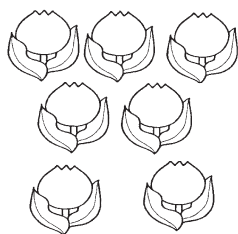
(1)




(2)



(3)

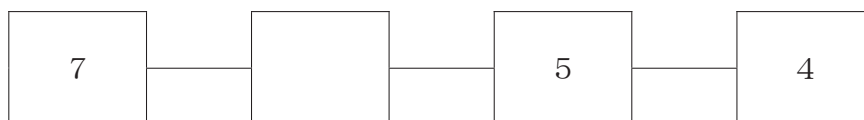


(4)

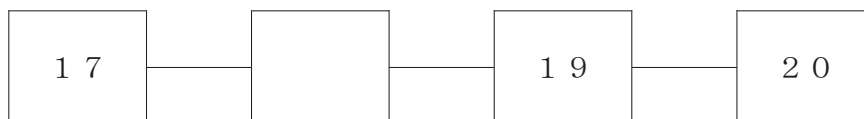


2  に かずを かきましょう。

(1)



(2)



(3) 3と 6で  です。

(4) 10は  と 4です。

ねん	くみ	ばん	なまえ	
----	----	----	-----	--

3 たしざんを しましょう。

(1)  $1 + 5 =$   (2)  $3 + 4 =$   (3)  $8 + 2 =$

(4)  $7 + 0 =$   (5)  $15 + 2 =$   (6)  $13 + 5 =$


4 ひきざんを しましょう。

(1)  $5 - 3 =$   (2)  $8 - 4 =$   (3)  $7 - 1 =$

(4)  $10 - 7 =$   (5)  $19 - 8 =$   (6)  $17 - 3 =$


5 いろを むりましょう。

(1) みぎから 4こ



みぎ

(2) みぎから 4こめ



みぎ

6 おおきい ほうに ○を つけましょう。

(1) 

3	6
---	---

 (2) 

8	10
---	----

 (3) 

13	15
----	----

  
 ( ) ( ) ( ) ( ) ( ) ( )