


けいさんにチャレンジ 11きゅう (9)

ねん	くみ	ばん	なまえ	
----	----	----	-----	--



(2てん×50)

1 たしざんをしましょう。

- | | | |
|--------------------------------------|---------------------------------------|---------------------------------------|
| (1) $2 + 8 =$ <input type="text"/> | (2) $6 + 5 =$ <input type="text"/> | (3) $8 + 8 =$ <input type="text"/> |
| (4) $9 + 4 =$ <input type="text"/> | (5) $8 + 6 =$ <input type="text"/> | (6) $4 + 7 =$ <input type="text"/> |
| (7) $7 + 9 =$ <input type="text"/> | (8) $0 + 7 =$ <input type="text"/> | (9) $5 + 10 =$ <input type="text"/> |
| (10) $6 + 0 =$ <input type="text"/> | (11) $10 + 7 =$ <input type="text"/> | (12) $80 + 10 =$ <input type="text"/> |
| (13) $50 + 9 =$ <input type="text"/> | (14) $40 + 60 =$ <input type="text"/> | (15) $45 + 3 =$ <input type="text"/> |

2 ひきざんをしましょう。

- | | | |
|--------------------------------------|--|---------------------------------------|
| (1) $10 - 4 =$ <input type="text"/> | (2) $14 - 6 =$ <input type="text"/> | (3) $11 - 2 =$ <input type="text"/> |
| (4) $14 - 8 =$ <input type="text"/> | (5) $12 - 7 =$ <input type="text"/> | (6) $15 - 8 =$ <input type="text"/> |
| (7) $12 - 3 =$ <input type="text"/> | (8) $16 - 10 =$ <input type="text"/> | (9) $7 - 7 =$ <input type="text"/> |
| (10) $8 - 0 =$ <input type="text"/> | (11) $15 - 5 =$ <input type="text"/> | (12) $60 - 30 =$ <input type="text"/> |
| (13) $58 - 8 =$ <input type="text"/> | (14) $100 - 70 =$ <input type="text"/> | (15) $27 - 4 =$ <input type="text"/> |

ねん	くみ	ばん	なまえ	
----	----	----	-----	--


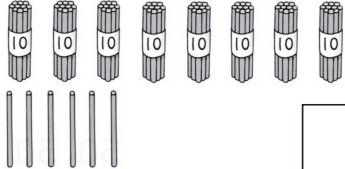

3 けいさんをしましょう。

- | | |
|---|---|
| (1) $3 + 2 + 1 =$ <input type="text"/> | (2) $8 + 2 + 5 =$ <input type="text"/> |
| (3) $8 - 3 - 2 =$ <input type="text"/> | (4) $14 - 4 - 7 =$ <input type="text"/> |
| (5) $7 - 4 + 2 =$ <input type="text"/> | (6) $10 - 9 + 7 =$ <input type="text"/> |
| (7) $4 + 1 - 5 =$ <input type="text"/> | (8) $4 + 10 - 4 =$ <input type="text"/> |
| (9) $12 - 2 + 7 =$ <input type="text"/> | |

4 にかずをかきましょう。

- (1) — — — —
- (2) — — — —

5 かずをかきましょう。

- (1) 
- (2) 
- (3) 

- (4) 10が7こと 1が 2こで
- (5) 十のくらいが 5, 一のくらいが 3の かず
- (6) 67は 10が こと 1が こ