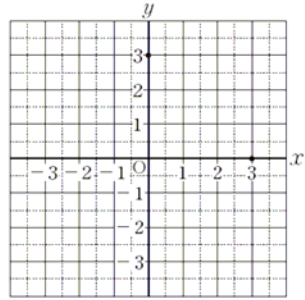


年	組	番	氏名
---	---	---	----

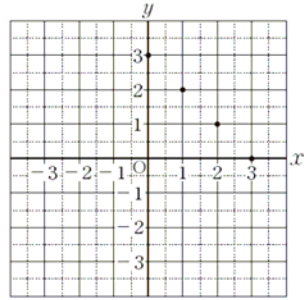
平成27年度 A 13

13 下のアからオまでの中に、二元一次方程式 $x + y = 3$ の解を座標とする点の全体を表したものがあります。正しいものを1つ選びなさい。

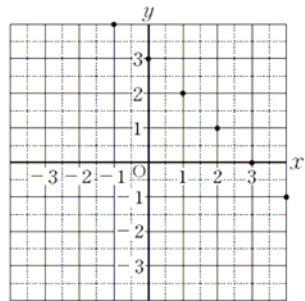
ア



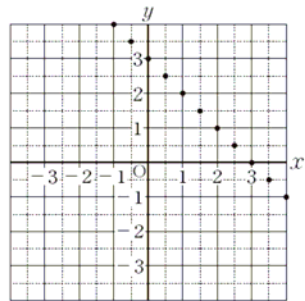
イ



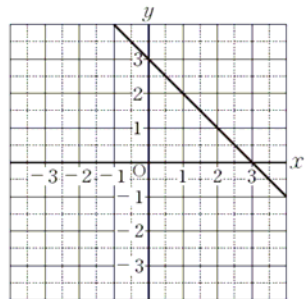
ウ



エ



オ



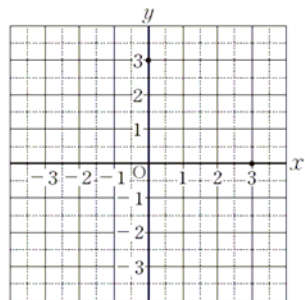
解答らん

年	組	番	氏名
---	---	---	----

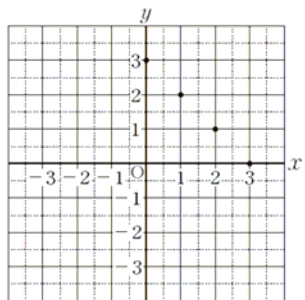
平成27年度 A 13

13 下のアからオまでの中に、二元一次方程式 $x + y = 3$ の解を座標とする点の全体を表したものがあります。正しいものを1つ選びなさい。

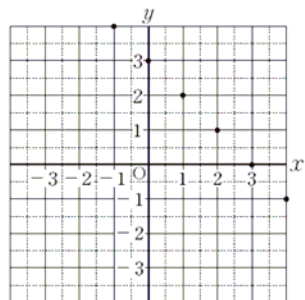
ア



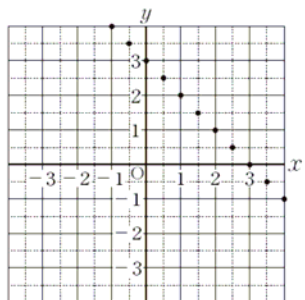
イ



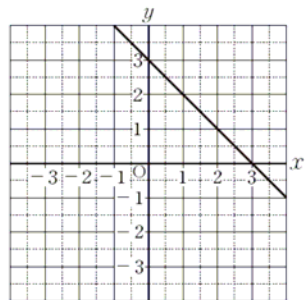
ウ



エ



オ



解答らん

オ
