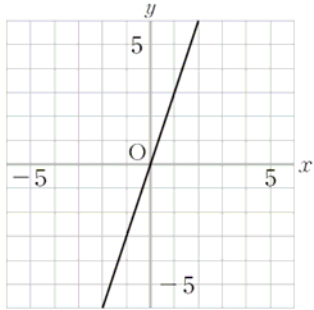


| | | | |
|---|---|---|----|
| 年 | 組 | 番 | 氏名 |
|---|---|---|----|

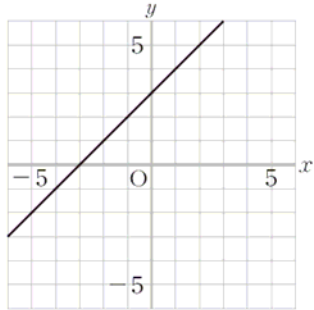
平成25年度 A 13

13 下のアからオまでの中に、二元一次方程式 $y = 3$ のグラフがあります。正しいものを1つ選びなさい。

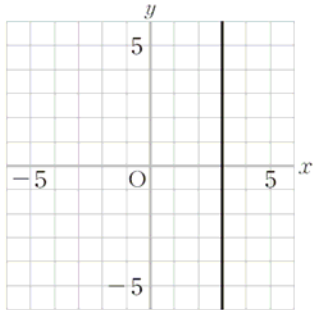
ア



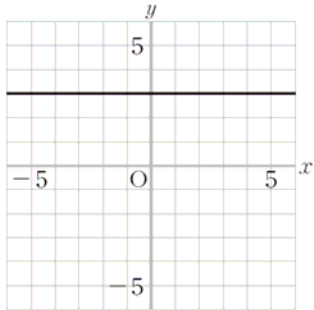
イ



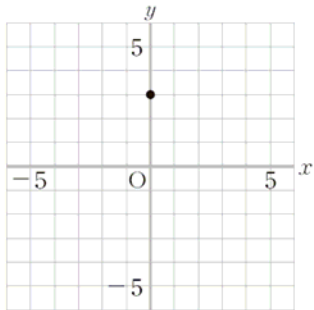
ウ



エ



オ



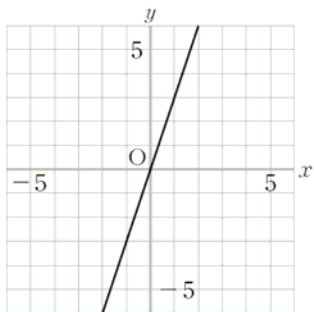
解答らん

| | | | |
|---|---|---|----|
| 年 | 組 | 番 | 氏名 |
|---|---|---|----|

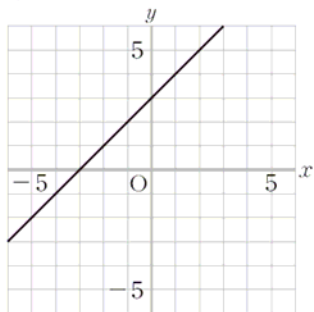
平成25年度 A 13

13 下のアからオまでの中に、二元一次方程式 $y = 3$ のグラフがあります。正しいものを1つ選びなさい。

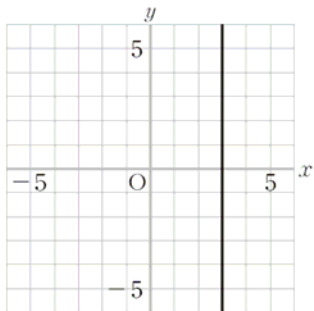
ア



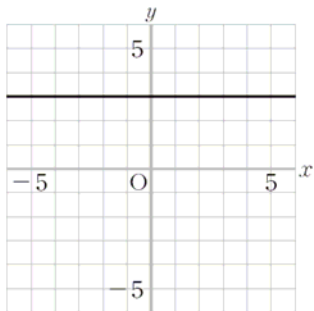
イ



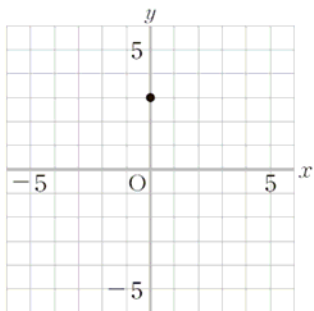
ウ



エ



オ



解答らん

| |
|---|
| 工 |
|---|