

年	組	番	氏名
---	---	---	----

平成26年度 B 2 (3)

2

あきらは、学校の水の使用量について調べるために、事務室で下の資料をもらいました。

学校の水の使用量

月	4・5月	6・7月	8・9月	10・11月	12・1月	2・3月	1年間
使用量(m ³)	550	1500	950	900	800	800	5500

※ 「4・5月」は、「4月と5月の合計」を表しています。

(3) あきらは、6・7月の水の使用量が1年間の水の使用量の $\frac{1}{4}$ より多いことを説明します。下の **1** から **4** までのどのグラフを使うと最もわかりやすいですか。1つ選んで、その番号を書きましょう。

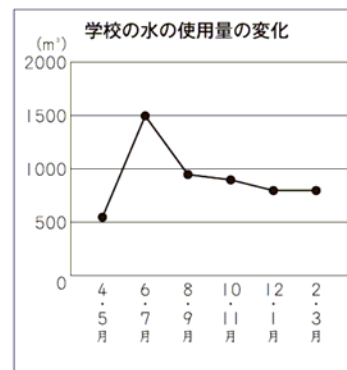
1 絵グラフ



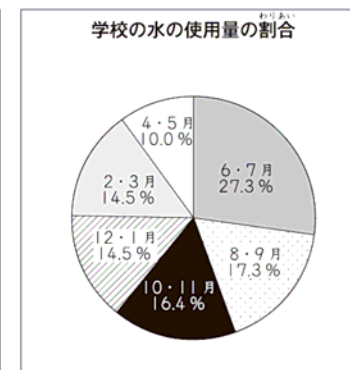
2 棒グラフ



3 折れ線グラフ



4 円グラフ



解答らん

年	組	番	氏名
---	---	---	----

平成26年度 B 2 (3)

2

あきらさんは、学校の水の使用量について調べるために、事務室で下の資料をもらいました。

学校の水の使用量

月	4・5月	6・7月	8・9月	10・11月	12・1月	2・3月	1年間
使用量(m ³)	550	1500	950	900	800	800	5500

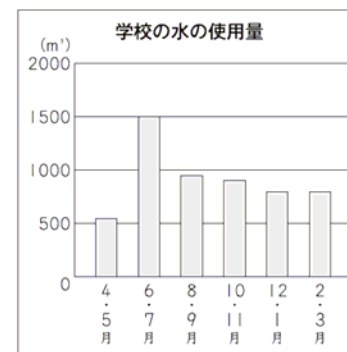
※ 「4・5月」は、「4月と5月の合計」を表しています。

(3) あきらさんは、6・7月の水の使用量が1年間の水の使用量の $\frac{1}{4}$ より多いことを説明します。下の **1** から **4** までのどのグラフを使うと最もわかりやすいですか。1つ選んで、その番号を書きましょう。

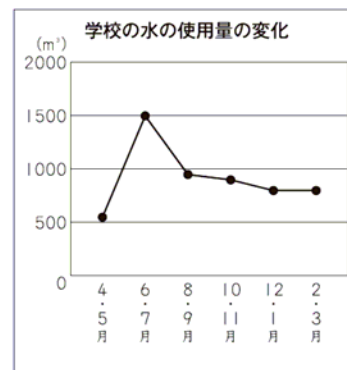
1 絵グラフ



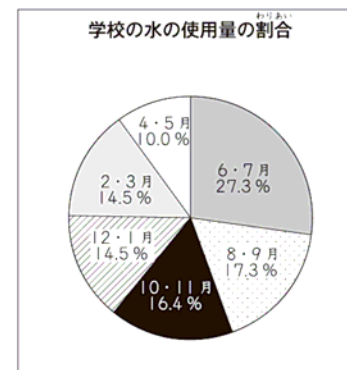
2 棒グラフ



3 折れ線グラフ



4 円グラフ



解答らん

4